

# PROPOSTA DE ATIVIDADE- 2º ANO

## MATEMÁTICA- DATA: 20/10/2020




**TEMPO ESTIMADO PARA REALIZAÇÃO DA ATIVIDADE: 50 MINUTOS**

### **MATERIAL DOURADO.**

É COMPOSTO POR VÁRIAS PEÇAS E CADA UMA REPRESENTA UM VALOR.

OBSERVE AS REPRESENTAÇÕES.



CADA PLACA CONTÉM 1 CENTENA, OU SEJA, 100 UNIDADES.



CADA BARRA REPRESENTA 1 DEZENA, OU SEJA, 10 UNIDADES.



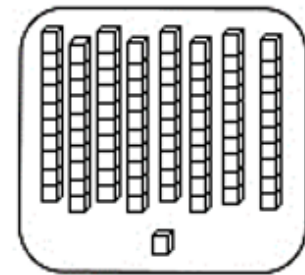
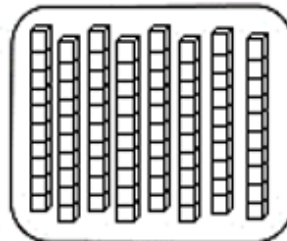
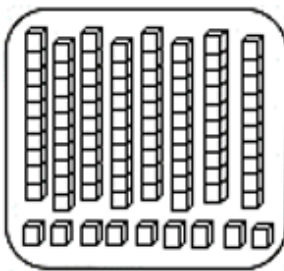
CADA CUBINHO REPRESENTA 1 UNIDADE.

# PROPOSTA DE ATIVIDADE- 2º ANO

## MATEMÁTICA- DATA: 20/10/2020

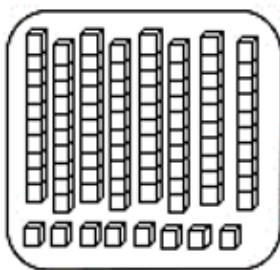
AGORA QUE VOCÊ JÁ VIU COMO É O MATERIAL DOURADO E SUAS REPRESENTAÇÕES, VAMOS FAZER A CONTAGEM DE CADA CONJUNTO E PINTAR NO CAÇA-PALAVRAS OS NÚMEROS CORRESPONDENTES.

DEPOIS ESCREVA OS NÚMEROS ENCONTRADOS POR EXTENSO EM SEU CADERNO.

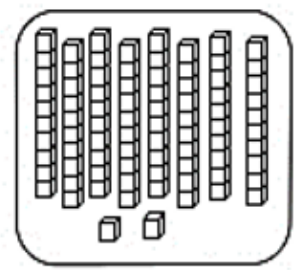


\_\_\_\_\_

\_\_\_\_\_

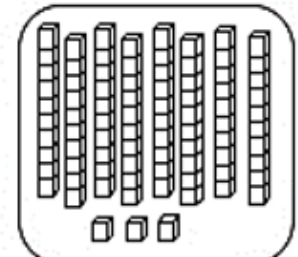
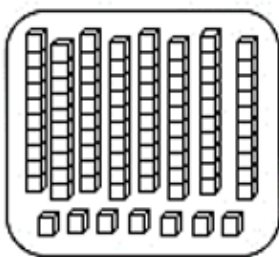


7	8	B	5	M	8	2
6	4	3	2	6	A	4
A	T	4	E	5	7	1
1	6	H	3	S	4	P
Z	3	7	8	5	2	8
2	L	4	0	Ç	9	8
7	9	C	W	7	2	D
D	3	9	3	J	4	0
8	1	V	6	8	7	B
L	2	0	4	G	3	9
7	5	3	1	T	5	2
9	1	5	6	8	F	4
X	R	2	3	9	5	7
5	8	6	4	6	4	8
9	K	3	5	9	7	3



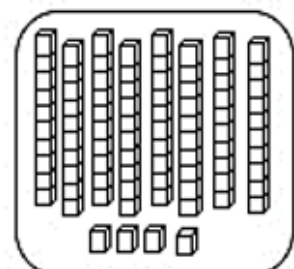
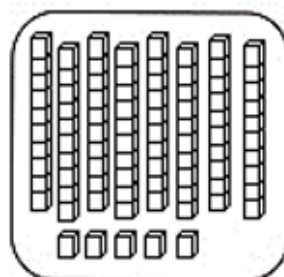
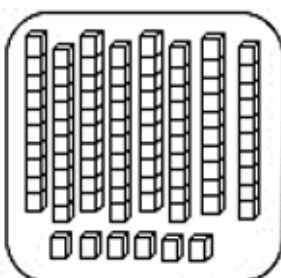
\_\_\_\_\_

\_\_\_\_\_



\_\_\_\_\_

\_\_\_\_\_



\_\_\_\_\_

\_\_\_\_\_

\_\_\_\_\_

