







1. QUANTOS REAIS SERÃO COLOCADOS EM CADA COFRINHO?

A)   _____ REAIS

B)   _____ REAIS

2. LIGUE CADA BRINQUEDO À QUANTIA CORRESPONDENTE A SEU VALOR.

 PETECA 7 REAIS	
 PIÃO 4 REAIS	
 CARRINHO 6 REAIS	

PROPOSTA DE ATIVIDADE- 2º ANO

MATEMÁTICA - DATA: 01/12/2020


3. NESTE GRÁFICO, PINTE OS QUADRINHOS PARA REPRESENTAR O PREÇO DE CADA PRODUTO ABAIXO.

TRATANDO A INFORMAÇÃO




FIQUE ATENTO

NO GRÁFICO, DOIS QUADRINHOS JÁ FORAM PINTADOS.



**PROPOSTA DE ATIVIDADE- 2º ANO
MATEMÁTICA - DATA: 24/11/2020**



1) ESCREVA A SEQUÊNCIA NUMÉRICA, DE 2 EM 2, DO 50 ATÉ O 100.

2) DÊ OS ANTECESSORES E OS SUCESSORES DOS NÚMEROS ABAIXO:

A)-----10-----

F)-----60-----

B)-----20-----

G)-----70-----

C)-----30-----

H)-----80-----

D)-----40-----

I) -----90-----

E)-----50-----

J)-----100-----

3) DECOMPONHA OS NÚMEROS, SIGA O EXEMPLO.

A) $15 = 10 + 5$ OU 1 DEZENA E 5 UNIDADES.

B) $26 =$

C) $43 =$

D) $67 =$

E) $84 =$

F) $113 =$

G) $155 =$

H) $240 =$

I) $266 =$

4) DÊ OS RESULTADOS POR EXTENSO.

A) $5+5=$

F) $10+10=$

B) $6+6=$

G) $11+11=$

C) $7+7=$

H) $12+12=$

D) $8+8=$

I) $13+13=$

E) $9+9=$

5) FAÇA UM DESENHO GEOMÉTRICO BEM LEGAL.

